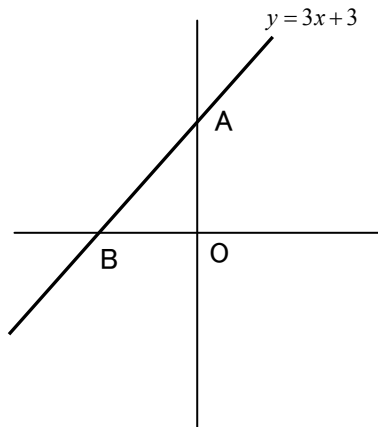


1次関数 ④

問題: 点A, B の座標を求め、 $\triangle OAB$ の面積を求めよ。

(1)

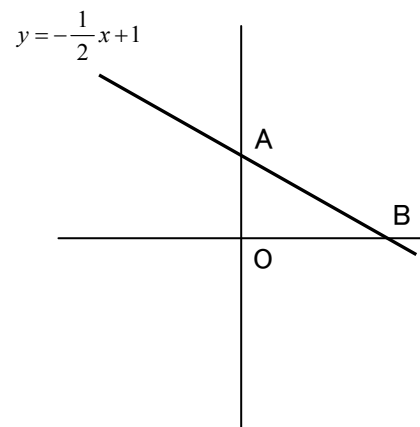


点A

点B

$\triangle OAB$ の面積

(2)

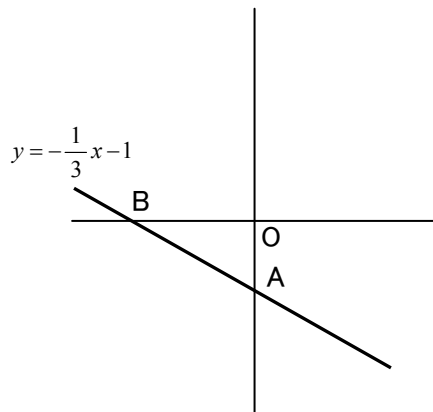


点A

点B

$\triangle OAB$ の面積

(3)

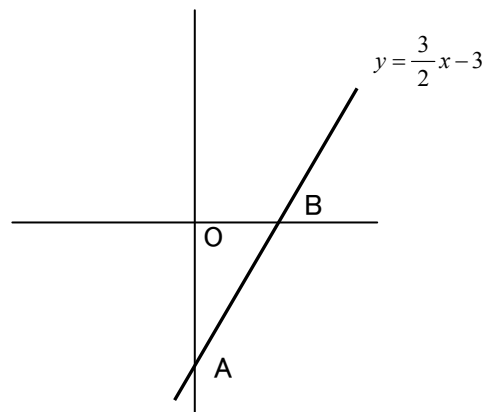


点A

点B

$\triangle OAB$ の面積

(4)



点A

点B

$\triangle OAB$ の面積