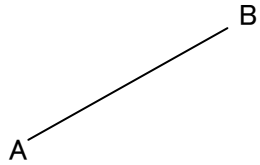
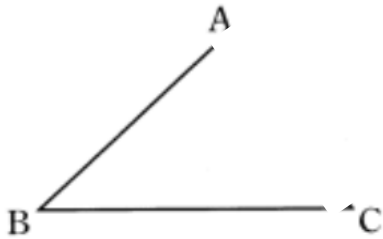



- (1) 線分ABの垂直二等分線を作図しなさい。
また、ABの中点Mを作図しなさい。



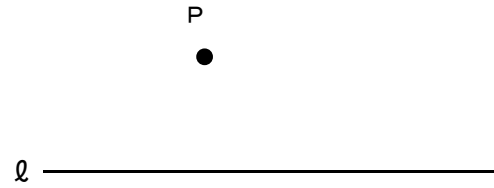
- (2) $\angle ABC$ の二等分線を作図しなさい。



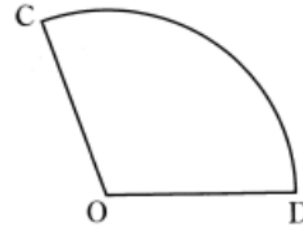
- (3) 直線 l 上の点Pを通る、 l の垂線を引きなさい。



- (4) 直線 l 上にない点Pを通る、 l の垂線を引きなさい。



- (5) 下のおうぎ形の対称軸を作図しなさい。



- (6) 線分ABを一辺とする正三角形と正方形を書きなさい。

