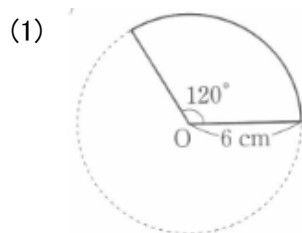
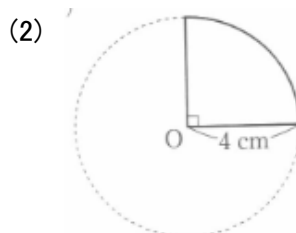


平面図形 確認テスト (9)

問1 次のようなおうぎ形の弧の長さや面積を求めなさい。



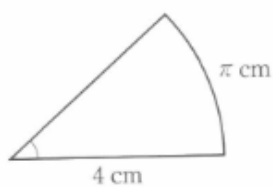
弧の長さ 4π cm 面積 12π cm²



弧の長さ 2π cm 面積 4π cm²

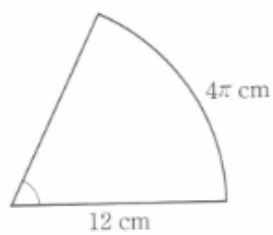
問2 次の図のようなおうぎ形の中心角や面積を求めなさい。

(1) 半径 4 cm, 弧の長さ π cm



中心角 45° 面積 2π cm²

(2) 半径 12 cm, 弧の長さ 4π cm



中心角 60° 面積 26π cm²