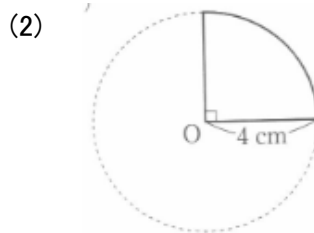
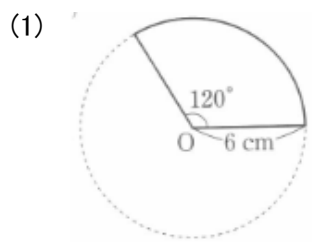


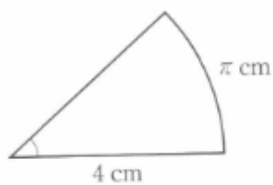
# 平面図形 確認テスト (9)

問1 次のようなおうぎ形の弧の長さや面積を求めなさい。



問2 次の図のようなおうぎ形の中心角や面積を求めなさい。

(1) 半径  $4\text{ cm}$ , 弧の長さ  $\pi\text{ cm}$



(2) 半径  $12\text{ cm}$ , 弧の長さ  $4\pi\text{ cm}$

