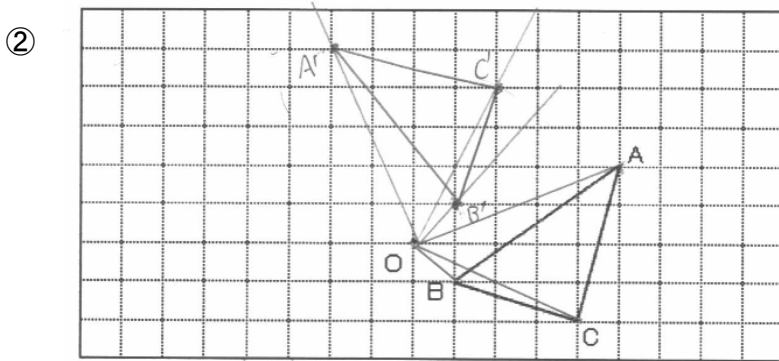
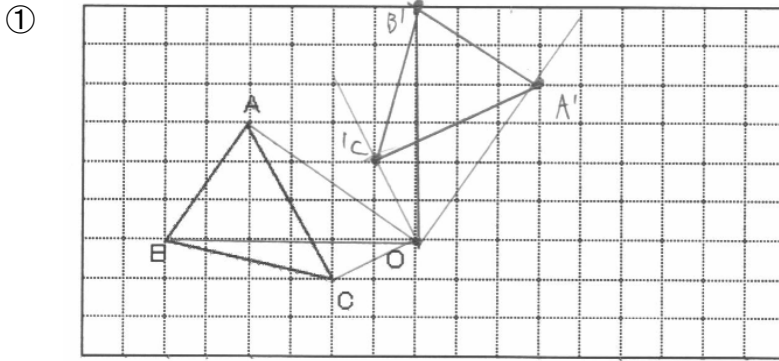


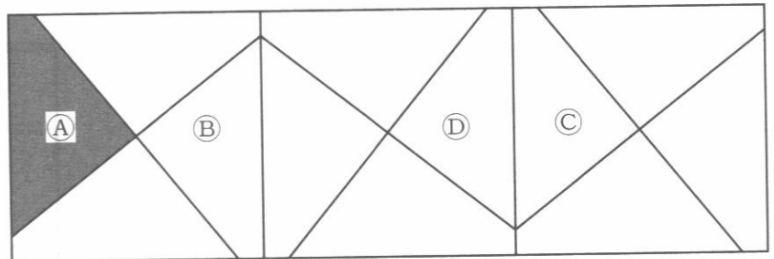
平面図形 確認テスト (6)

(1) 下の図で△ABC を点O を中心として 90° 回転移動した △A'B'C' をかけ。



(2) 次の図で A を B, C, D に移動するときどんな移動をすればよいか。

- ① A を B に移動するとき。
回転移動
- ② A を C に移動するとき
平行移動
- ③ A を D に移動するとき
対称移動



(3) 次の図で A を B, C, D に移動するときどんな移動をすればよいか。

- ① A を B に移動するとき。
対称移動
- ② A を C に移動するとき
平行移動
- ③ A を D に移動するとき
回転移動

