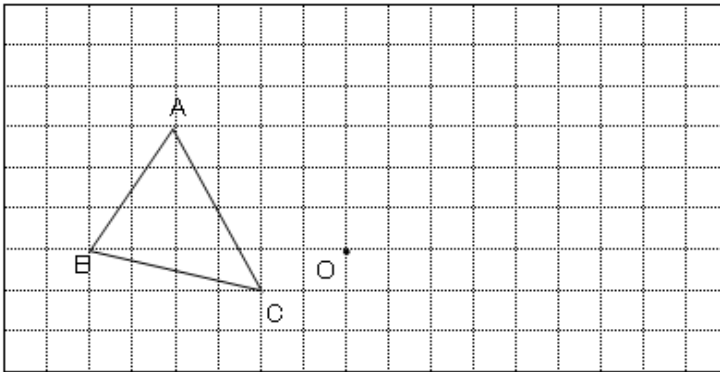


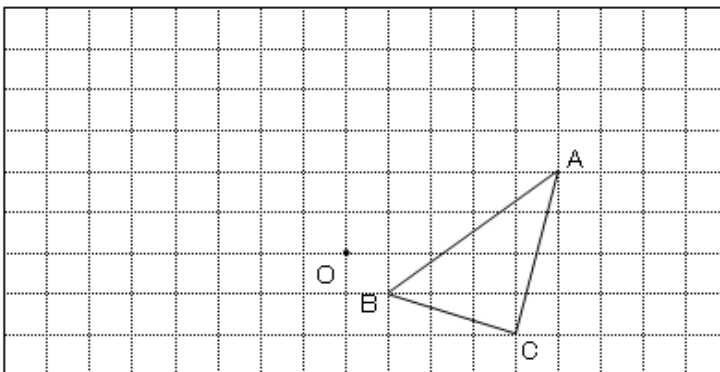
平面図形 確認テスト(6)

(1) 下の図で△ABC を点O を中心として 90° 回転移動した △A'B'C' をかけ。

①



②

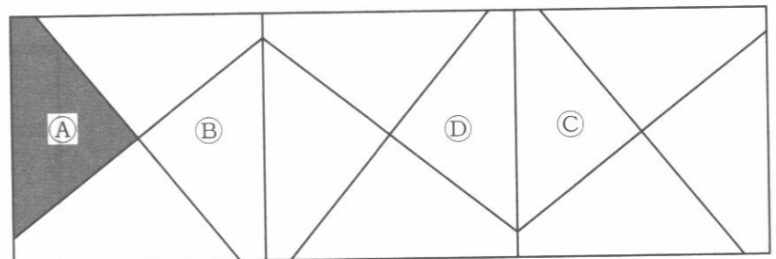


(2) 次の図で A を B, C, D に移動するときどんな移動をすればよいか。

① A を B に移動するとき。

② A を C に移動する時

③ A を D に移動する時



(3) 次の図で A を B, C, D に移動するときどんな移動をすればよいか。

① A を B に移動するとき。

② A を C に移動する時

③ A を D に移動する時

