

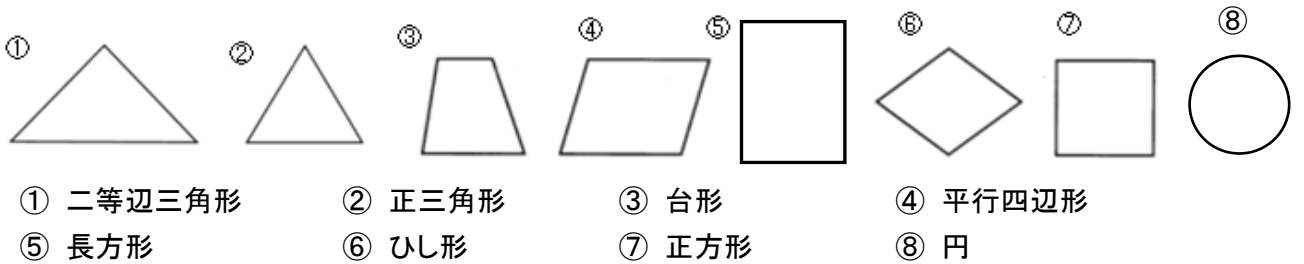
平面図形 確認テスト (3)

問 次の () に適語を書きなさい。

- (1) 2直線AB, CD が交わらないとき、2直線AB、CDは(平行)であるという。
このとき、記号を使って($AB \parallel CD$)と書く。



- (2) 次の図形の名前を書け。



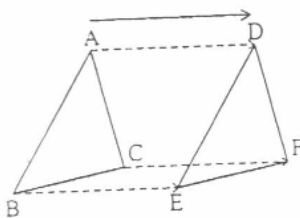
- (3) 形と大きさを変えなさいで、図形を他の位置に移すことを(移動)という。

- (4) 下の図1 のように図形を一定の方向に、一定の長さだけずらして移すことを(平行移動)という。

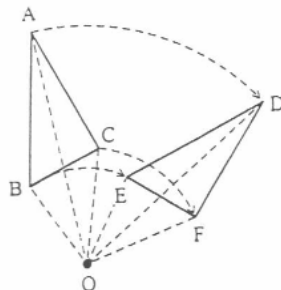
- (5) 下の図2 のように図形を1つの点O を中心として一定の角度だけまわして移すことを(回転移動)といい、
点O を(回転の中心)という。
特に、 180° の回転移動を(点対称移動)という。

- (6) 下の図3のように図形を1つの直線 l を軸として折り返して移すことを(対称移動)といい、
直線 l を(対称の軸)という。

(図1)



(図2)



(図3)

