

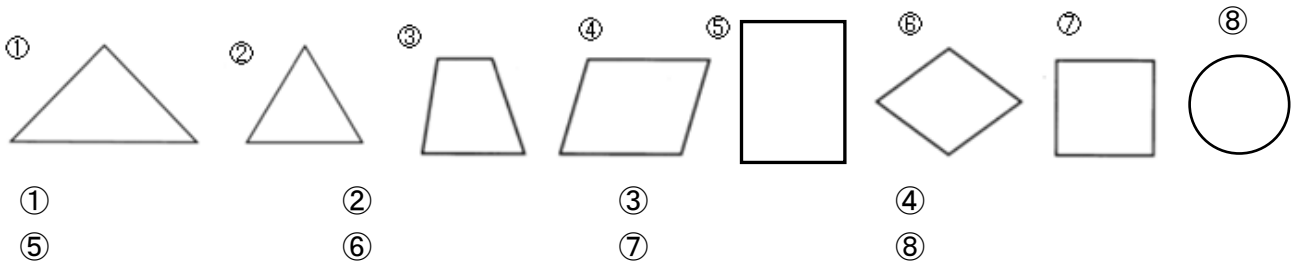
平面図形 確認テスト (3)

問 次の () に適語を書きなさい。

- (1) 2直線AB, CD が交わらないとき、2直線AB, CDは()であるという。
このとき、記号を使って()と書く。

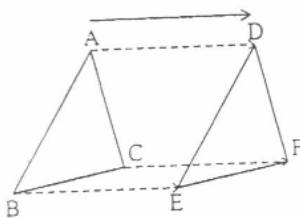


- (2) 次の図形の名前を書け。

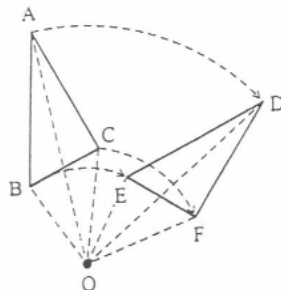


- (3) 形と大きさを変えなさいで、図形を他の位置に移すことを()という。
- (4) 下の図1のように図形を一定の方向に、一定の長さだけずらして移すことを()という。
- (5) 下の図2のように図形を1つの点Oを中心として一定の角度だけまわして移すことを()という。
点Oを()という。
特に、 180° の回転移動を()という。
- (6) 下の図3のように図形を1つの直線 l を軸として折り返して移すことを()といい、
直線 l を()という。

(図1)



(図2)



(図3)

